

1105  
288

**Олимпиада школьников по географии**  
**Задания муниципального этапа для 11 класса**

Уважаемый участник олимпиады! Вашему вниманию предлагаются задания тестового и аналитического раундов, на выполнение которых отводится 135 минут (на тестовое задание – 45 минут и аналитическое – 90 минут).

Тестовое задание включает 30 вопросов, каждый из которых содержит несколько элементов ответов и оценивается определенным количеством баллов (от 0,25 до 2 баллов). Общая оценка ответов на вопросы тестового задания представляет собой сумму баллов за отдельный вопрос и максимально составляет 30 баллов.

**Тестовый раунд**

1. Второй в истории экспедицией, достигшей Южного географического полюса, руководил

- а) О. Норденшельд
- б) А. Гумбольдт
- в) Р. Скотт
- г) С. Барроу

2. На каком материке находится точка, лежащая на  $20^{\circ}$  южнее экватора и на  $120^{\circ}$  восточнее нулевого меридиана ?

- а) Африка
- б) Австралия
- в) Антарктида
- г) Южная Америка

3. Определите, какую вершину покорила группа альпинистов, если случилось это в день весеннего равноденствия, и Солнце в полдень стояло на юге на высоте  $27^{\circ}$  над плоскостью горизонта?

- а) г. Эверест
- б) Ключевская сопка
- в) г. Аконкагуа
- г) г. Мак-Кинли

4. Укажите пары точек, между которыми расстояние наименьшее

- а)  $10^{\circ}$  с.ш.,  $20^{\circ}$  з.д.
- б)  $30^{\circ}$  с.ш.,  $20^{\circ}$  з.д.
- в)  $10^{\circ}$  с.ш.,  $40^{\circ}$  з.д.
- г)  $30^{\circ}$  с.ш.,  $40^{\circ}$  з.д.

5. Минерал ... горит коптящим пламенем и плавится как смола. Он легче морской воды и поэтому всплывает на ее поверхность

- а) янтарь
- б) нефрит
- в) опал
- г) галенит

6. Почти весь воздух и водяной пар атмосферы сосредоточены в

- а) ее верхних слоях

- б) озоновом слое
- в) стратосфере
- г) тропосфере

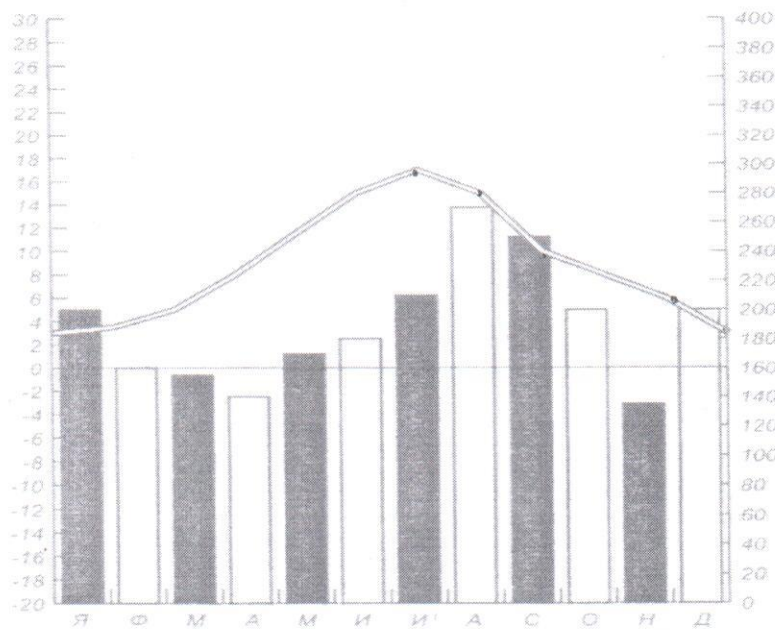
7. Какое утверждение о движении воздушных масс является верным?

- а) бризы меняют свое направление дважды в год
- б) в тропических широтах господствуют западные ветры
- в) летом муссоны дуют с океана на материк
- г) в умеренных широтах господствуют пассаты

8. Каковы особенности циклонов?

- а) вихревое движение воздуха связано с областью высокого давления
- б) движение воздуха нисходящее, против часовой стрелки в северном полушарии
- в) обладают большой подвижностью, приносят ненастную и ветреную погоду, смягчают жару летом и холод зимой
- г) характеризуются ясной солнечной погодой без осадков, зимой увеличивают холод, летом усиливают жару

9. Проанализируйте климатограмму и установите для какого из городов она была построена ?



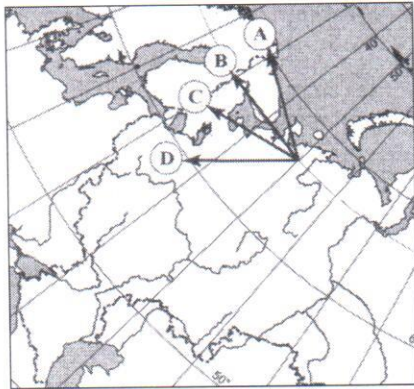
- а) Якутск
- б) Сидней
- в) Лондон
- г) Гавана

10. Определите форму рельефа, образованную в результате мерзлотных процессов

- а) рифт
- б) бугор пучения
- в) оползень
- г) дюна



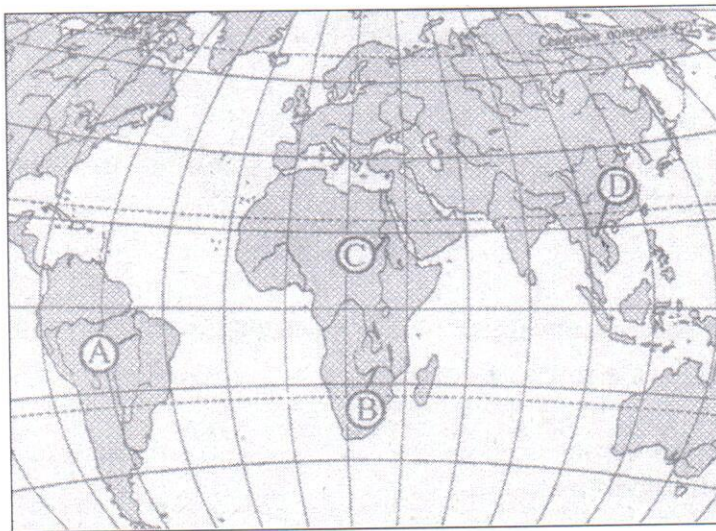
11. Стрелкой В на фрагменте карты России изображено направление на



- а) северо-запад
- б) юго-запад
- в) север
- г) запад

+

12. Какие реки на карте мира обозначены буквами А, В, С, D?



А - Амазонка  
 В - Конго  
 С - Нил  
 D - Меконг

+

13. Выберите общие характеристики гор Южной и Северо-Восточной Сибири

- а) отсутствие областей альпийской складчатости
- б) абсолютные высоты не превышают 4 км
- в) количество осадков в межгорных впадинах меньше, чем на склонах горных хребтов
- г) наибольшая часть территории принадлежит к бассейну Северного Ледовитого океана

+

14. По приведенному описанию территории выберите правильный ответ. «Это возвышенная холмистая равнина (200-700 м) на раннепалеозойском складчатом основании, пересекается самой многоводной рекой России. Средние температуры января здесь минус 18-20<sup>0</sup>С, июля плюс 18 – 20<sup>0</sup>С, годовое количество осадков 300-350 мм. Естественная растительность – типчаково-ковыльные степи на южных и обыкновенных черноземах, с массивами сосняков на аллювиальных песках

- а) Минусинская котловина
- б) Приволжская возвышенность

+

- в) Туранская низменность
- г) Чарская котловина

15. Какое из утверждений о границах России верно?

- а) самую протяженную границу Россия имеет с Казахстаном
- б) самая южная точка России находится на границе с Туркменией
- в) на юго-западе Россия граничит с Молдавией и Румынией
- г) Россия граничит со всеми странами СНГ

16. Какие из перечисленных регионов России имеют наименьшую плотность населения. Соответствующие цифры запишите в порядке возрастания

- а) Владимирская область
- б) Ненецкий АО
- в) Чукотский АО
- г) Амурская область

17. Определите регион России по описанию его южной части. «В лесостепной и степной зоне развито зерновое хозяйство (яровая пшеница), мясо-молочное скотоводство и овцеводство. В невысоких горах добываются железные и медные руды, на равнине – газ, нефть, бурый уголь. Получили развитие черная и цветная металлургия, нефтехимия. Здесь расположены два города-миллионера

- а) Северо-Западный
- б) Центрально-черноземный
- в) Уральский
- г) Поволжский

18. Укажите экономические районы России, не имеющий выхода к Мировому океану

- а) Северо-Кавказский
- б) Центрально-Черноземный
- в) Поволжский
- г) Центральный

19. Какое из следующих утверждений является верным?

- а) важным районом лесной промышленности является Поволжье
- б) крупным районом цветной металлургии является Урал
- в) крупнейшим районом добычи железной руды является Дальний Восток
- г) крупнейшим районом возделывания льна является Северный Кавказ

20. Отраслью специализации Центральной России является

- а) топливная промышленность
- б) химическая промышленность
- в) цветная металлургия
- г) целлюлозно-бумажная промышленность

21. Что общего у Западной Сибири, Поволжья и Центральной России

- а) специализация на черной металлургии,
- б) специализация на химии органического синтеза и химии полимеров
- в) обеспеченность топливно-энергетическими ресурсами
- г) обеспеченность лесными ресурсами



22. В каких двух районах России с равнинным рельефом важную роль играет речной транспорт, добывается нефть и газ, развита рыбная промышленность, атомная энергетика?

- а) Северо-Западный и Волго-Вятский
- б) Западная Сибирь и Поволжье
- в) Дальний Восток и Северный
- г) Поволжье и Северный

+

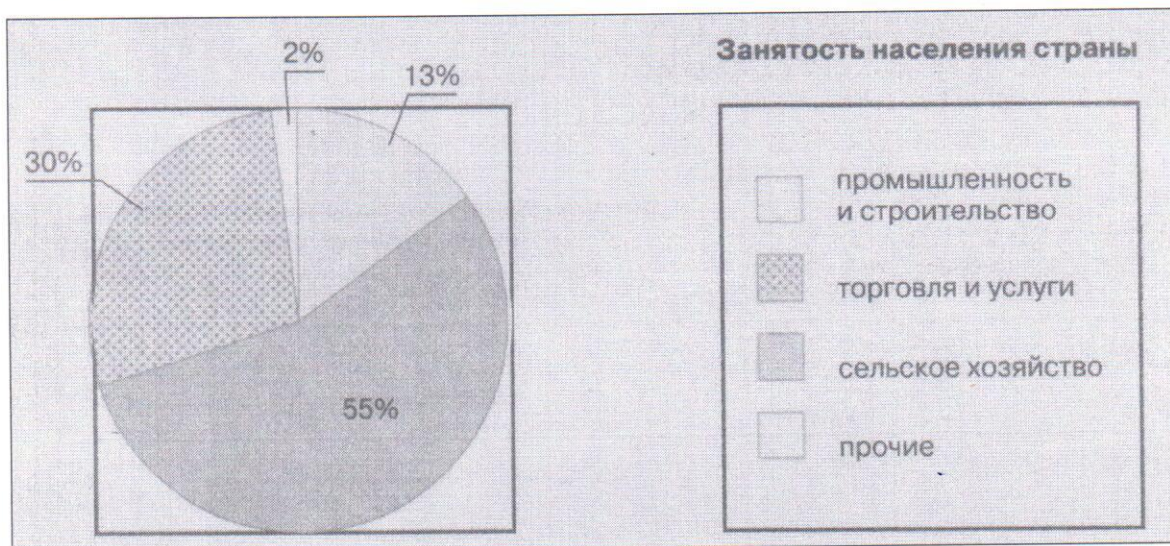
23. Какая общая черта объединяет города Москву, Мехико, Мумбаи и Самару?

- а) это центры крупнейших агломераций
- б) они расположены в восточном полушарии
- в) это столицы государств
- г) они расположены на берегах крупных рек

+

24. Какой из стран отвечает структура занятости населения, показанная на рисунке

- а) Индонезия
- б) Швеция
- в) Великобритания
- г) Канада



+

25. Определите страну по ее краткому описанию: «Эта страна восхитительной природы с живописными горными вершинами, с зелеными долинами и обширными равнинами расположена на юге материка. На юге страны простираются кедровые леса, а на северо-западе жаркие равнины сменяются песками пустыни. В недрах залегают огромные запасы полезных ископаемых: алмазы, золото, уголь, медь, железная руда и др., а по запасам марганцевых руд она занимает первое место в мире. Страна относится к развитым странам мира».

- а) ЮАР
- б) Канада
- в) Китай
- г) Мавритания

+

26. Электронное машиностроение - отрасль специализации стран

- а) Алжира и Ирана
- б) Малайзии и Республики Корея
- в) Греции и Саудовской Аравии
- г) Португалии и Украины

+

27. Для какой из перечисленных стран характерен миграционный прирост населения?

- а) Франция
- б) Китай
- в) Конго
- г) Камбоджа

+

28. Найдите ошибку в перечне основных экспортеров зерна на мировой рынок

- а) США
- б) Япония
- в) Канада
- г) Франция

—

29. На каком острове Индонезии наиболее высока плотность населения, расположена столица страны, наиболее развита промышленность и рисосеяние ?

- а) Суматра
- б) Ява
- в) Калимантан
- г) Бали

+

30. Определите страну по характерным для нее словам: креолы, гаучо, мясное скотоводство, пшеница

- а) Перу
- б) Коста-Рика
- в) Бразилия
- г) Аргентина

+