

603.

285

Олимпиада школьников по географии
Задания муниципального этапа для 6 класса

Уважаемый участник олимпиады! Вашему вниманию предлагаются задания тестового и аналитического раундов, на выполнение которых отводится 135 минут (на тестовое задание – 45 минут и аналитическое – 90 минут).

Тестовое задание включает 30 вопросов, каждый из которых содержит несколько элементов ответов и оценивается определенным количеством баллов (от 0,25 до 2 баллов). Общая оценка ответов на вопросы тестового задания представляет собой сумму баллов за отдельный вопрос и максимально составляет 30 баллов.

Тестовый раунд

1. Впервые истоки великих азиатских рек были нанесены на карту

- а) Н.М. Пржевальским
- б) Д. Ливингстоном
- в) Н. Миклухо-Маклаем
- г) В. Юнкером

+

2. Какое из представленных утверждений о параллели является верным?

- а) показывает направление север-юг
- б) все точки имеют одинаковую широту
- в) имеет одинаковую протяженность
- г) все точки имеют одинаковую долготу

+

3. Какую долю в % (приблизительно) радиус Земли составляет от расстояния между Землей и Луной

- а) 0,01
- б) 0,2
- в) 1,5
- г) 17,0

+

4. Северная стрелка компаса показывает

- а) направление на Северный полюс
- б) направление магнитного меридиана
- в) магнитное склонение
- г) дирекционный угол

+

5. Какой стороне горизонта соответствует азимут 135°?

- а) северо-восток
- б) юго-восток
- в) северо-запад
- г) юго-запад

+

6. В какой день на Земле продолжительность дня и ночи везде одинакова?

- а) 23 февраля
- б) 22 декабря
- в) 21 марта
- г) 22 июня

+

7. Где продолжительность ночи в течение года меняется больше всего?

- а) о. Сулавеси
- б) мыс. Горн
- в) оз. Эри
- г) Саргассово море

+

8. На карте масштаба 1:500 000 расстояние между пунктами равно 4 см. Каково расстояние между ними

- а) на местности *20 км*
- б) на карте масштаба 1:2 500 000 *100 км*
- в) на карте масштаба 1: 25 000 *8 км*
- г) на карте масштаба 1: 100 000 *4 км*

+

9. Какая условная линия является одной из границ жаркого пояса?

- а) нулевой меридиан
- б) тропик
- в) экватор
- г) полярный круг

+

10. Месторождения нефти и природного газа обнаружены на (в)

- а) материковых склонах
- б) океанических котловинах
- в) материковых отмелях
- г) областях срединно-океанических хребтов

+

11. Какое соответствие «горная порода – тип по происхождению» является верным?

- а) мрамор - осадочная
- б) гранит - метаморфическая
- в) базальт – магматическая
- г) известняк – метаморфическая

+

12. Назовите последнюю перед началом мезозойской эры эпоху складчатости

- а) байкальская
- б) герцинская
- в) киммерийская
- г) альпийская

+

13. Какие из перечисленных платформ сформировались в архей-протерозойское время?

- а) Антарктическая
- б) Туранская
- в) Сибирская
- г) Западно-Сибирская

—

14. Название какого природного явления происходит от исландского слова «хлынуть»?

- а) вулкан
- б) цунами
- в) тайфун
- г) гейзер

+

15. Из приведенного списка выберите три государства, где могут происходить наиболее разрушительные землетрясения

- а) Перу, Австралия, Ливия
- б) Бурунди, Италия, Бразилия
- в) Норвегия, Мадагаскар, Сенегал
- г) Перу, Бурунди, Италия

+

16. Какое океаническое течение связано с переносом воздушных масс в «ревуших» 40-х широтах ?

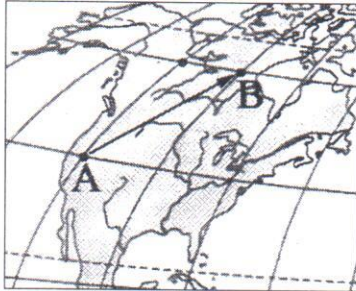
- а) Пассатное
- б) Западных ветров
- в) Мозамбикское
- г) Канарское

+

17. Назовите океаны

- а) с наибольшей биомассой *Тихий океан*
- б) с максимальной биопродуктивностью *Тихий океан*
- в) с наибольшей средней глубиной *Тихий океан*
- г) где нет срединно-океанических хребтов *Северный ледовитый океан*

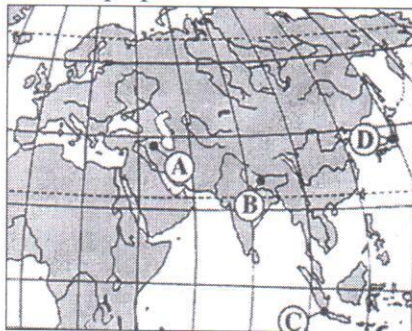
18. Стрелка на карте Северной Америки указывает направление на



+

- а) север
- б) северо-восток
- в) восток
- г) северо-запад

19. Какие географические объекты на карте обозначены буквами А, В, С и D ?



- А - Иран
- В - Индия
- С - Индонезия
- Д - Япония

+

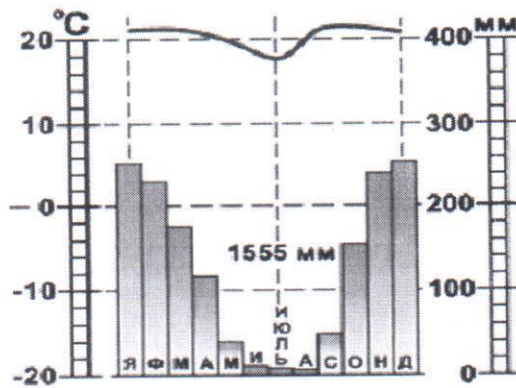
20. Какой климатический пояс характеризуется наибольшей разницей между температурами самого теплого и самого холодного месяцев

- а) экваториальный
- б) тропический
- в) умеренный
- г) арктический

+

21. Увеличению количества осадков способствует
- а) наличие теплых океанических течений
 - б) наличие холодных океанических течений
 - в) преобладание повышенного атмосферного давления
 - г) равнинный рельеф

22. К какому типу климата относится представленная климатограмма?



23. На каких континентах зафиксированы?
- а) максимальная температура воздуха
 - б) минимальная температура воздуха
 - в) максимальное атмосферное давление
 - г) максимальная годовая сумма осадков

*Северная Америка
Антарктида
Антарктида
Южная Америка*

24. Выберите правильное утверждение, в котором указаны материки по мере увеличения их площади

- а) Австралия, Антарктида, Северная Америка, Южная Америка, Африка, Евразия;
- б) Евразия, Африка, Северная Америка, Южная Америка, Антарктида, Австралия;
- в) Австралия, Антарктида, Южная Америка, Африка, Северная Америка, Евразия;
- г) Австралия, Антарктида, Южная Америка, Северная Америка, Африка, Евразия.

25. Каким из названных свойств географическая оболочка **НЕ** обладает?

- а) зональность
- б) целостность
- в) неизменность
- г) ритмичность

26. Для какой природной зоны характерны такие условия как: постоянно высокие температуры круглый год и большое количество атмосферных осадков, выпадающих ежедневно и в течение всего года?

- а) тундра
- б) тайга
- в) степь

г) влажные экваториальные леса +

27. Назовите группу из четырех типов почв, характерных для областей с избыточным увлажнением

- а) тундрово-глеевые, солончаки, черноземы, каштановые
- б) черноземы, подзолистые, желтоземы, коричневые
- в) каштановые, красно-желтые ферраллитные, коричневые, серо-бурые
- г) тундрово-глеевые, подзолистые, желтоземы, красно-желтые ферраллитные +

28. Животные какой группы относятся к вымершим ?

- а) дронг, тур, странствующий голубь +
- б) як, морская корова, уссурийский тигр
- в) тапир, бизон, капибара
- г) красный волк, зубр, ворон

29. В какой природной зоне животные круглый год ведут преимущественно сумеречный и ночной образ жизни ?

- а) экваториальные леса
- б) муссонные леса
- в) степи и лесостепи
- г) тропические пустыни и полупустыни +

30. Выберите правильный термин, используемый для названия растений, поселяющихся на других растениях

- а) эндемики
- б) эфемеры
- в) эпифиты +
- г) ксерофиты